

# TRƯỜNG TIỂU HỌC VẠN PHÚC

Họ và tên học sinh : ..... Lớp 1.....

## HƯỚNG DẪN HỌC SINH RÈN LUYỆN KĨ NĂNG, TỰ HỌC

### VÀ ÔN TẬP KIẾN THỨC LỚP 1 – ĐỢT 5

(Từ 02/3/2020 đến hết 08/3/2020)

1. *Đánh giá kết quả thực hiện những việc làm rèn luyện các kĩ năng và ôn tập bài học của con trong thời gian nghỉ tuần trước (Từ 24/02 đến hết 01/3/2020):*

Nhận xét của CMHS: (ghi tên nội dung công việc vào chỗ chấm)

+ Hoàn thành tốt:

.....  
.....

+ Hoàn thành chưa tốt:

.....  
.....

+ Chưa làm:.....

.....

2. *Trong thời gian nghỉ phòng dịch Covid-19 tuần này, các con làm những việc sau:*

- Làm bưu thiếp hoặc vẽ tranh tặng bà/mẹ/cô giáo nhân dịp ngày Quốc tế Phụ nữ 8/3 sắp tới.

- Mỗi ngày sưu tầm và đọc một câu chuyện hay nói về tình cảm mẹ và con. Chia sẻ với cả nhà về ý nghĩa của câu chuyện.

- Hằng ngày vận động theo nhạc bài Happy 1 đến 2 lần. Bài tập mẫu trên website: <http://c1vanphuc-bd.edu.vn>

- Làm thêm phiếu ôn tập Toán, Tiếng Việt đợt 5 tại website: [c1vanphuc-bd.edu.vn](http://c1vanphuc-bd.edu.vn)

- Tiếp tục thực hiện các công việc hàng ngày như: sắp xếp góc học tập, tủ quần áo, cùng giúp đỡ bố mẹ việc nhà, thực hành phòng chống dịch Covid-19...

3. Rất mong CMHS nhắc nhở con tích cực thực hiện các biện pháp phòng chống dịch Covid-19, kết hợp rèn luyện kĩ năng và hoàn thành nội dung phiếu ôn tập.

CMHS kiểm tra vào cuối mỗi ngày. CMHS có thể cùng con làm nhật kí đợt nghỉ dịch những việc con làm được bằng hình ảnh hoặc quay video.

4. Nếu có điều kiện, CMHS có thể cho con tham gia ôn tập kiến thức và trải nghiệm hoạt động học tập tại các trang website sau:

- <http://englishformaths.com> hay <http://tienganhtoan.com> (dành cho lớp 1,2)
- <http://vio.edu.vn> (dành cho lớp 1,2,3,4,5)

**Hãy chung tay hành động đẩy lùi dịch Covid-19  
vì sức khỏe của bản thân, gia đình và cộng đồng!**

# MỘT SỐ ĐỀ TỰ HỌC, ÔN TẬP KIẾN THỨC HÀNG NGÀY

## ĐỀ LỚP 1 - SỐ 11

Họ và tên: ..... Lớp: 1....

### A. MÔN TOÁN

#### Bài 1.

a. Viết các số từ 8 đến 20:

.....

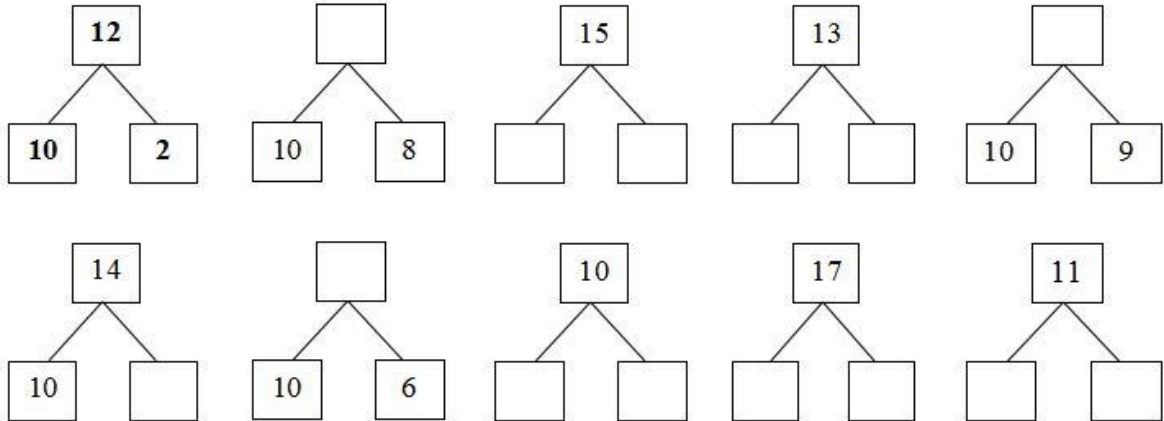
b. Viết các số từ 20 đến 12:

.....

#### Bài 2. Tính

$12 + 4 = \dots\dots$	$16 - 6 = \dots\dots$	$10 + 2 + 5 = \dots\dots$	$12 + 6 - 2 = \dots\dots$
$14 + 2 = \dots\dots$	$15 - 3 = \dots\dots$	$15 - 3 + 7 = \dots\dots$	$17 - 7 + 5 = \dots\dots$
$16 + 3 = \dots\dots$	$19 - 7 = \dots\dots$	$18 - 6 - 3 = \dots\dots$	$19 - 1 + 1 = \dots\dots$

#### Bài 3. Viết số thích hợp vào chỗ chấm (theo mẫu):



#### Bài 4. Số?

a) Số 15 gồm ... chục và ... đơn vị Số 20 gồm ... chục và ... đơn vị Số 14 gồm ... chục và ... đơn vị Số 11 gồm ... chục và ... đơn vị Số 18 gồm ... đơn vị và ... chục	b) Số liền trước của số 13 là ..... Số liền sau của số 16 là ..... Số liền sau của số 19 là ..... Số liền trước của số 18 là ..... Số liền trước của số 11 là .....
---	---

c) Mẹ mua một chục trứng và 5 quả trứng. Vậy mẹ đã mua ... quả trứng.

#### Bài 5. Viết các số 8, 13, 19, 20, 16, 10 theo thứ tự:

Từ bé đến lớn:

.....

Từ lớn đến bé:

.....

## B. TIẾNG VIỆT:

### I. ĐỌC THÀNH TIẾNG VÀ TRẢ LỜI CÂU ĐÓ SAU:

Cũng từ lúa nếp sinh ra

Xanh xanh từng hạt, đậm đà quê hương

Lúc làm bánh, khi nấu chè

Lá sen ủ ngát đi về cùng thu

( Là gì ? - Là .....)

### II. ĐỌC THÂM VÀ LÀM BÀI TẬP

1. Cho các tiếng: *vách, bạch, tách, nghịch, xéch, sạch.*

Chọn tiếng điền vào chỗ chấm để được từ có nghĩa:

..... tường

chuột .....

mưa tí .....



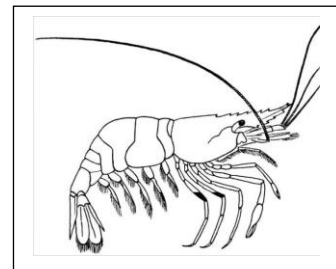


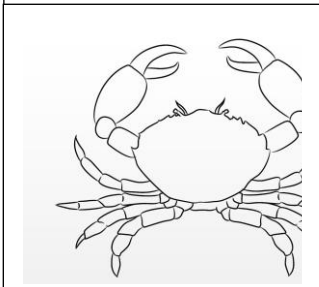
..... ngòm

mắt .....

..... sẽ

2. Trò chơi: **Giúp mẹ đi chợ.** Mẹ nhờ em đi chợ mua một số món ăn và đồ vật.  
Em hãy tô màu vào đồ ăn và đồ vật mà mẹ nhờ mua nhé !

1. Rau bắp cải
2. Bánh ngọt
3. Quả cam
4. Con tôm
5. Cái cốc



## ĐỀ LỚP 1 - SỐ 12

Họ và tên: ..... Lớp: 1....

### A. MÔN TOÁN:

#### **Bài 1: Khoanh vào chữ đặt trước đáp án đúng:**

**Câu 1. Số liền sau số 16 là:**

- A. 15                      B. 17                      C. 18

**Câu 2. Số bé nhất trong các số 1, 18, 19, 8, 20 là:**

- A. 8                      B. 18                      C. 1                      D. 19

**Câu 3. Số lớn nhất trong các số 12, 11, 10, 15, 20 là:**

- A. 11                      B. 12                      C. 20                      D. 15

**Câu 4. Số thích hợp điền vào ô trống là:  $20 + 6 = \dots + 20$**

- A. 5                      B. 6                      C. 15                      D. 16

#### **Bài 2: Đúng ghi Đ, sai ghi S vào ô trống:**

a)  $8 + 11 = 18$  .....                      c)  $14 - 2 = 2$  .....

b)  $17 - 2 = 15$  .....                      d)  $16 + 3 = 19$  .....

#### **Bài 3: Điền dấu $>$ , $<$ , $=$ ?**

$12 - 2$  .....  $10 + 2$                        $13 + 4$  .....  $14 - 3$                        $15 - 5$  .....  $15 - 4$

#### **Bài 4: Viết phép tính thích hợp:**

- a) Cành trên có: 10 con chim  
Cành dưới có: 5 con chim  
Có tất cả: ..... con chim?

--	--	--	--	--

- b)  
Trên cành có: 18 con chim  
Bay đi: 5 con  
Còn lại: ..... con chim?

--	--	--	--	--

#### **Bài 5: Điền số thích hợp vào chỗ chấm**

$18 - \dots = 15$                        $\dots + 15 = 19$                        $\dots + 14 = 14 + 5$


## B. MÔN TIẾNG VIỆT:

### I. ĐỌC THÀNH TIẾNG VÀ HỌC THUỘC LÒNG ĐOẠN THƠ SAU:

#### Quả mùa thu

Quả gấc nào mà chín  
Cũng gặp được mặt trời  
Quả khế chấp bao cánh  
Bay tới những vì sao.

- Em có biết vì sao nhà thơ lại viết “Quả khế chấp bao cánh – Bay tới những vì sao” không ? Hãy tô màu và tìm câu trả lời cho mình nhé !



### II. ĐỌC THẦM VÀ LÀM BÀI TẬP:

#### Bài 1: Điền ng hay ngh vào chỗ chấm:

- .....ước nhìn                  viên .....ọc

- .....ơ                  .....ác                  .....ịch .....ợm

#### Bài 2: Nối ô chữ thích hợp:

Cánh đồng
Lá cờ
Con suối
Em rửa tay sạch

chảy rì rầm.
bát ngát.
trước khi ăn cơm.
đỏ thắm.

# ĐỀ LỚP 1 - SỐ 13

Họ và tên: ..... Lớp: 1....

## A. MÔN TOÁN: EM VUI HỌC TOÁN 1

**Nhiệm vụ 1:** Mẹ bảo em lấy 1 chục quả cam mang sang biểu bà. Em hãy vẽ số quả cam mang sang biểu bà và tô màu nhé !



### Nhiệm vụ 2: Vẽ màu cho bức tranh


Cách làm: Em hãy tính kết quả các phép tính có ở mỗi mảng hình và sau đó tô màu tương ứng với kết quả.

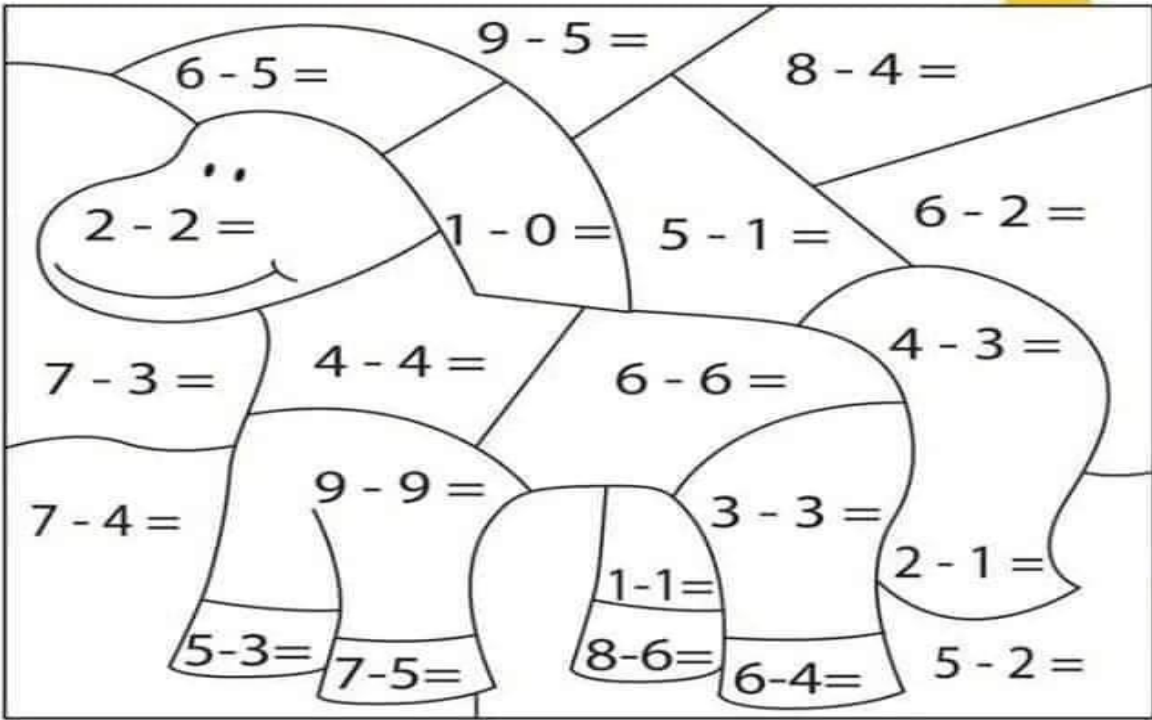
Kết quả = 0 → màu vàng      Kết quả = 2 → màu ghi

Kết quả = 1 → màu cam      Kết quả = 3 → màu xanh lá

Kết quả = 5 → màu xanh da trời

024





6 - 5 =      9 - 5 =      8 - 4 =

2 - 2 =      1 - 0 =      5 - 1 =      6 - 2 =

7 - 3 =      4 - 4 =      6 - 6 =      4 - 3 =

7 - 4 =      9 - 9 =      3 - 3 =      2 - 1 =

5 - 3 =      7 - 5 =      1 - 1 =      8 - 6 =      6 - 4 =      5 - 2 =

## B. TIẾNG VIỆT

### I. ĐỌC THÀNH TIẾNG VÀ TRẢ LỜI CÂU HỎI SAU:

Cánh vàng nhị lớn  
Quay hướng mặt trời  
Hạt thơm béo ngậy  
Mời bạn thử xơi ?

( Là hoa gì ? )

- Em hãy tô màu vào loại hoa được nhắc đến trong câu trên:



### II. ĐỌC THẦM VÀ LÀM BÀI TẬP SAU:

**Bài 1: Gạch chân tiếng có chứa vần khác các tiếng còn lại:**

a) mắ**ch**      chắ**ch**      thắ**t**      rắ**c**

b) lự**c**      sứ**c**      nự**c**      cự**c**

c) gắ**c**      tắ**c**      tắ**c**      nắ**c**

**Bài 2: Điền iêc hay ươc và thêm dấu thanh thích hợp vào chỗ chấm.**

xanh b.....

ch..... áo

cái l .....

dòng n .....

th..... kẻ

bắt ch.....

**Bài 3: Nối hai cột để thành câu có nghĩa:**

Đêm trung thu, chúng em được

hai bím tóc rất xinh.

Chúng em

rước đèn, phá cỗ.

Mẹ buộc cho bé

học thuộc bài cô dạy.



## ĐỀ LỚP 1 - SỐ 14

Họ và tên: ..... Lớp: 1....

### A. MÔN TOÁN: EM VUI HỌC TOÁN 1

**Nhiệm vụ 1:** Em có 10 quả bóng. Em cho em gái em một số bóng bằng số lớn nhất có một chữ số. Vậy em còn mấy quả bóng ?

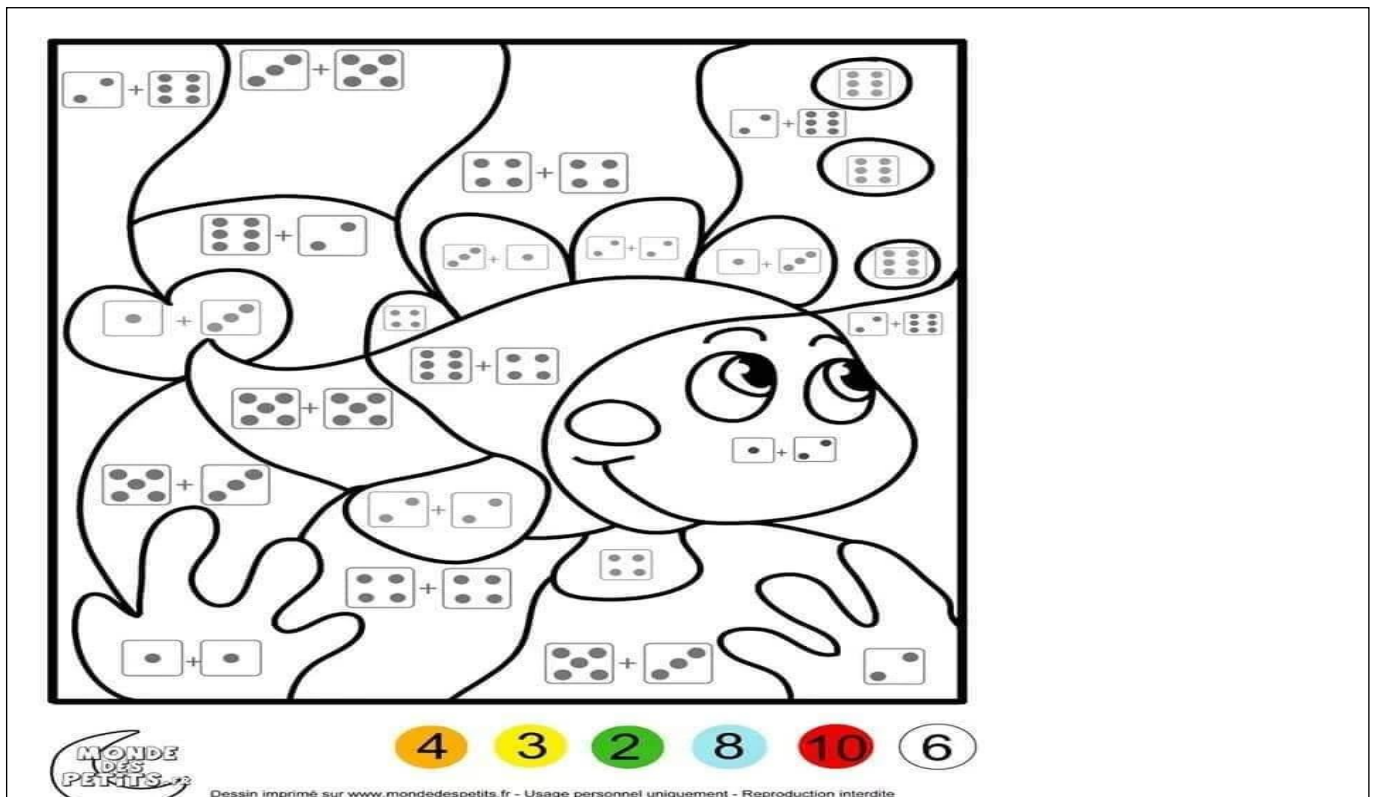
Hãy vẽ số quả bóng em còn lại nhé !

**Nhiệm vụ 2:** Vẽ màu cho bức tranh

Cách làm: Em hãy tính số chấm có tất cả có ở mỗi mảng hình và sau đó tô màu tương ứng .

Có 4 ● tô màu cam ; 3 ● tô màu vàng; 2● tô màu xanh lá

8 ● tô màu xanh da trời ; 10 ● tô màu đỏ ; 6 ● không tô



## B. TIẾNG VIỆT

- *Bạn hãy đọc và nối các từ thích hợp vào hình ảnh dưới đây nhé.*



**Con  
bướm**



**Bánh  
chưng**



**Hộp mứt**

**Con chuột**

I. cO

**Bánh tét**

**Quả gấc**



J.

## Thử tài khéo léo



Mùa xuân đang ngập tràn nơi nơi, chúng ta hãy cùng làm những chiếc bánh thật ngon để dành tặng gia đình. Tuy nhiên còn thiếu một số dụng cụ và nguyên liệu làm bánh, các bạn nhỏ hãy tìm và viết lại giúp tớ nhé!

Phần I/ Điền vào chỗ trống và thêm dấu cho phù hợp:

a/ **ư**ng hay **ơ**ng?



Máy đánh tr.....



Lò n.....

b/ **ă**n hay **â**n?



Cái c.....



Cán l..... bột

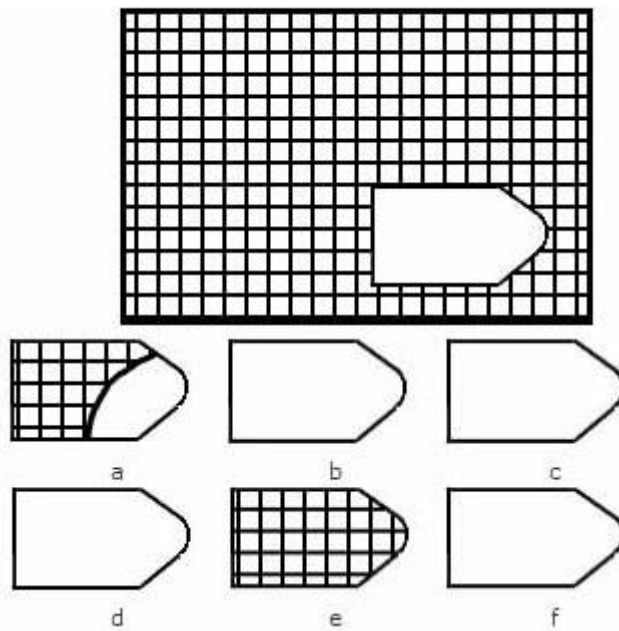
## ĐỀ LỚP 1 - SỐ 15

Họ và tên: ..... Lớp: 1....

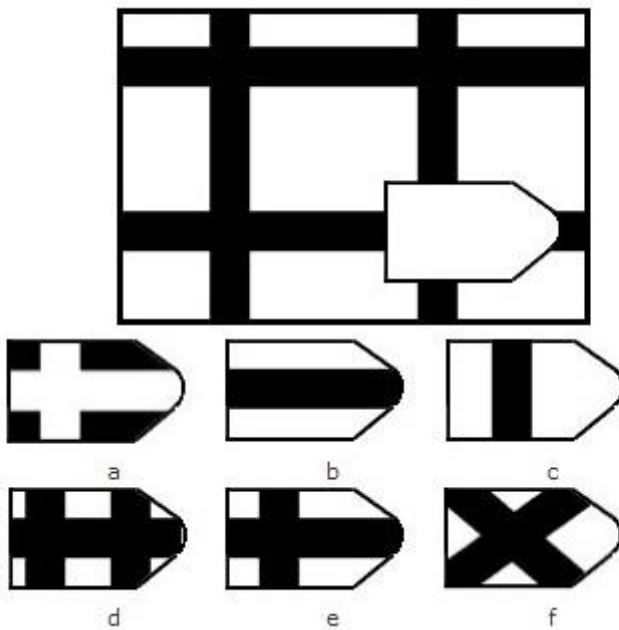
**MÔN TOÁN: EM VUI HỌC TOÁN:**

**Nhiệm vụ 1:** Thử tài IQ: Em hãy khoanh tròn mảnh ghép thích hợp

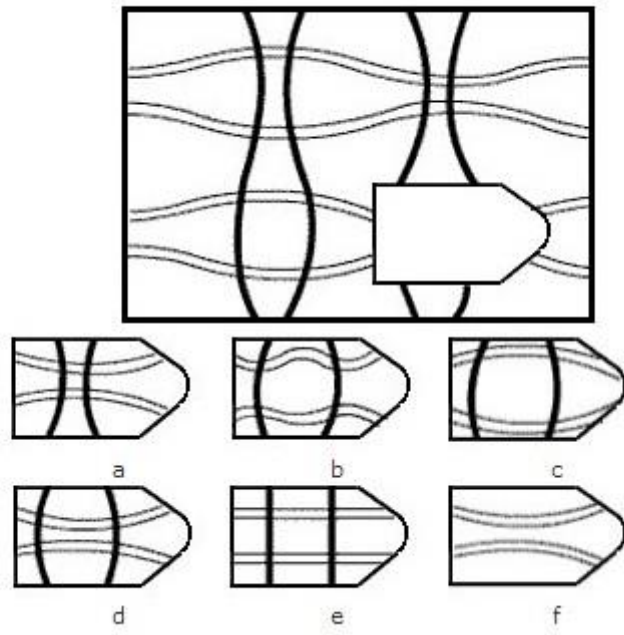
Câu 1:



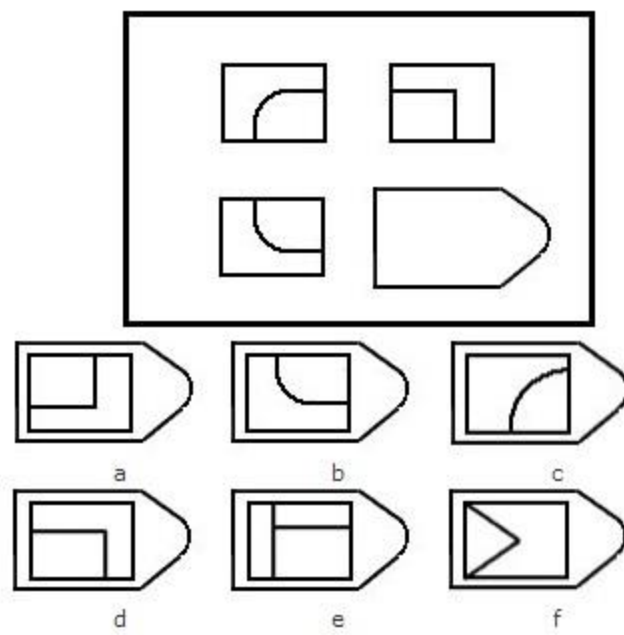
Câu 2:



Câu 3:



Câu 4:





## A. TIẾNG VIỆT

### I. ĐỌC THÀNH TIẾNG VÀ HỌC THUỘC LÒNG ĐOẠN THƠ SAU: GÀ GÁY SÁNG

Ồ ó o! Gà gáy  
Mọi vật bình tĩnh dậy  
Sẵn sàng đón ngày mới  
Mặt trời nhỏ lên rồi.  
  
Cả nhà vào ngày mới  
Ai cũng vui rộn ràng  
Nhờ tiếng gà gáy sáng  
Ồ... ó... o...!Ồ... o!

### II. ĐỌC THÂM VÀ LÀM BÀI TẬP:

#### Bài 1. Nói:

Giờ tan tâm, xe cộ đi lại	tấp nập.
Giữa Hồ Gươm	thăng tấp.
Những hàng cau	có Tháp Rùa cổ kính.
Vườn cây	sai trĩu quả.

#### Bài 2. Chọn vần và dấu thanh thích hợp điền vào chỗ chấm.

- **op** hay **ap** : g ..... vui ; màu s..... ; cứng c.....

- **ich** hay **êch** : chim ch..... ; bạc ph..... ; con .....

